





FECHA DE TAREA	MATERIA	INSTRUCCIÓN DE TAREA
Lunes 22	Español	<ul style="list-style-type: none"> Leer del libro "Las almas de las fiestas" el capítulo: "Azúcar blanca", en compañía de tus padres. Realizar copia en la libreta sobre abreviaturas y siglas.
	Chino Mandarín	<ul style="list-style-type: none"> Realizar las actividades de la página 14 de la guía de chino mandarín
	Inglés	<ul style="list-style-type: none"> Print the abc flashcards and practice it. Use recycle cardboard (cereal box) and stick the abc flash cards. Annexed 1 Practice the spelling wordlist.
Martes 23	Español	<ul style="list-style-type: none"> Leer del libro "Las almas de las fiestas" el capítulo: "Las almas de la fiesta", en compañía de tus padres.
	Ciencias Naturales	<ul style="list-style-type: none"> Investiguen en diversas fuentes los hábitos de higiene que deben seguir para el cuidado de sus órganos sexuales.
	Matemáticas	<ul style="list-style-type: none"> Realiza las actividades de las páginas 54 y 55 del libro "Juguemos a contar y a medir" Practicar el cálculo mental durante toda la semana. Ver anexo 2
Miércoles 24	Español	<ul style="list-style-type: none"> Leer del libro "Las almas de las fiestas" el capítulo: "Detrás de la máscara", en compañía de tus padres.
	Matemáticas	<ul style="list-style-type: none"> Resuelve las actividades de la página 14 del libro Gimnasio matemático. Resuelve en tu cuaderno los problemas. Ver anexo 3. .
	Historia	<ul style="list-style-type: none"> Leer el texto "Aridoamérica, Mesoamérica y Oasisamérica: características gráficas y culturales, de la página 26 a la 29, y en tu libreta contesta las preguntas. Ver anexo 4.
Jueves 25	Español	<ul style="list-style-type: none"> Leer del libro "Las almas de las fiestas" el capítulo: "Doña Nieves", en compañía de tus padres. Libro SEP. Páginas 36 y 37.
	Geografía	<ul style="list-style-type: none"> En tu libreta contesta las preguntas de la página 26 del libro Geografía SEP. Dibuja un mapa pictográfico del tema que elijan. De lugares donde quisieran ir de vacaciones, la ubicación de distintos tipos de animales y/o plantas, o zonas arqueológicas y/o históricas.

Annexed 1

<p>My ABC Flashcards</p>	 Aa	 Bb	 Cc
 Dd	 Ee	 Ff	 Gg
 Hh	 Ii	 Jj	 Kk
 Ll	 Mm	 Nn	 Oo

 Xx	 Yy	 Zz	
---	---	---	--------------

ANEXO 2

Hoja de cálculo matemático

$9854 - 396 = \underline{\hspace{2cm}}$

$874 + 28 = \underline{\hspace{2cm}}$

$489 - 63 = \underline{\hspace{2cm}}$

$762 + 92 = \underline{\hspace{2cm}}$

$727 - 55 = \underline{\hspace{2cm}}$

$967 + 79 = \underline{\hspace{2cm}}$

$310 - 74 = \underline{\hspace{2cm}}$

$821 + 59 = \underline{\hspace{2cm}}$

$986 - 98 = \underline{\hspace{2cm}}$

$673 + 98 = \underline{\hspace{2cm}}$

$473 - 68 = \underline{\hspace{2cm}}$

$814 + 49 = \underline{\hspace{2cm}}$

$875 - 34 = \underline{\hspace{2cm}}$

$574 + 38 = \underline{\hspace{2cm}}$

$570 - 92 = \underline{\hspace{2cm}}$

$637 + 64 = \underline{\hspace{2cm}}$

$831 - 80 = \underline{\hspace{2cm}}$

$800 + 68 = \underline{\hspace{2cm}}$

$994 - 53 = \underline{\hspace{2cm}}$

$826 + 37 = \underline{\hspace{2cm}}$

ANEXO 3

Resuelve los siguientes problemas en tu cuaderno.

I.- Ana quería comprar una muñeca que costaba \$670, pero con lo que ella tenía no le alcanzaba. Así que su papá le dio los \$140 que le hacían falta. ¿Cuánto dinero tenía Ana?

II.- Arturo y Manuel son hermanos. Su papá les compró una bolsa de canicas para que se las repartieran en partes iguales. Al momento de contarlas, Manuel se dio cuenta que él tenía 27 y su hermano 43. ¿Cuántas canicas le debe de dar Arturo a su herano para que tengan la misma cantidad?

III.- En una sala de cine hay 16 filas y cada una tiene 24 sillas. Si se vendieron 248 boletos. ¿Cuántas sillas quedarán vacías?

IV.- Alondra irá una fiesta de la secundará. Aún no sabe que ropa se pondrá. En su ropero tiene 8 blusas, 6 pantalones y 3 pares de zapatos. ¿De cuántas maneras distintas se pueden vestir para ir a la fiesta?

V.- La capacidad de un garrafón de agua es de 19 litro. ¿Cuántos litros de agua transportan en una camioneta si lleva 85 garrafones?

ANEXO 4

Contesta las siguientes preguntas en tu cuaderno de Historia.

- A) ¿Qué partes ocupan actualmente las tres áreas culturales?
- B) ¿Cómo se caracteriza Aridoamérica?
- C) ¿Cuál es el clima de Aridoamérica?
- D) ¿Cuáles fueron las principales actividades que se realizaron en Aridoamérica?
- E) ¿Qué se ha encontrado en las cuevas de La Paila y La Candelaria Coahuila?
- F) ¿Qué objetos producían y fabricaban?
- G) ¿Cuáles son las características de Mesoamérica?
- H) ¿En qué años los grupos nómadas comenzaron a vivir en las aldeas?
- I) ¿Cuál fue el rasgo característico más importante de Mesoamérica?
- J) ¿Qué se inició a partir de los años 2 500 a.C.?
- K) ¿Cuáles son las características de Oasisamérica?
- L) ¿Por quienes fue habitado?
- M) ¿Qué cultos compartían en Oasisamérica?
- N) ¿A qué rendían culto algunas culturas del suroeste de Estados Unidos?
- O) ¿Con qué se asociaban estos seres sobrenaturales?